


















ACTIVIDAD:

1.- Cada fruta que aparece en la tabla numérica, está escondiendo un número, anota qué número está oculto bajo cada fruta:

1		3	4		6	7		9	
	12	13			16		18		20
	22		24	25		27		29	30
31		33			36	37	38		40

	<input type="text"/>		<input type="text"/>		<input type="text"/>		<input type="text"/>
	<input type="text"/>		<input type="text"/>		<input type="text"/>		<input type="text"/>
	<input type="text"/>		<input type="text"/>		<input type="text"/>		<input type="text"/>
	<input type="text"/>		<input type="text"/>		<input type="text"/>		<input type="text"/>
	<input type="text"/>						

2.- Dictado de números: (en la hoja de planificación aparecen los números a dictar)

a) _____

e) _____

b) _____

f) _____

c) _____

g) _____

d) _____

h) _____